

**BỒI DƯỠNG NĂNG LỰC TOÁN 4**  
**ĐỀ BÀI TẬP VỀ NHÀ NGÀY 24.07**  
Giáo viên: Nguyễn Thành Long

Họ và tên: .....Ngày học: .....

**Bài 1.** Tính nhanh:

a)  $123 + 1024 + 877 - 2000$

c)  $8 \times 5 + 3 \times 8 + 8 \times 2 - 10 \times 8$

b)  $2005 + \underbrace{5 + 5 + \dots + 5}_{100 \text{ số } 5}$

d)  $1 + 3 + 5 + 7 + 9 + 11 + 13 + 15 + 17 + 19$

.....  
.....  
.....  
.....  
.....  
.....  
.....  
.....  
.....  
.....  
.....  
.....  
.....  
.....  
.....  
.....  
.....

**Bài 2.** Tìm x:

a)  $x \times 2 + 75 = 457$

b)  $85 + x : 5 = 1000 - 888$

.....  
.....  
.....  
.....  
.....  
.....  
.....  
.....  
.....

**Bài 3.** Trong đợt tổng kết cuối năm học, lớp 4A được nhà trường phát cho 1 số vở để làm phần thưởng. Cô giáo nhầm tính: Nếu mỗi bạn được thưởng 4 quyển thì còn thừa 90 quyển, nếu mỗi bạn nhận được 6 quyển thì vừa hết. Hỏi lớp 4A có bao nhiêu học sinh và nhà trường đã phát cho lớp 4A bao nhiêu quyển vở?

.....

.....

.....

.....

.....

.....

.....

.....

.....

.....

.....

.....

.....

.....

.....

.....

.....

.....

.....

.....

.....

.....

**Bài 4.** Một đơn vị bộ đội cần sang sông. Nếu mỗi thuyền chở 16 người thì còn thừa 8 người chưa được sang sông. Nếu mỗi thuyền chở 20 người thì thừa một thuyền. Hỏi có bao nhiêu thuyền, bao nhiêu chú bộ đội?

.....

.....

.....

.....

.....

.....

.....

.....

.....

.....

.....

.....

.....

.....

.....

.....

.....

.....

.....

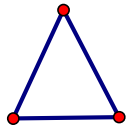
.....

.....

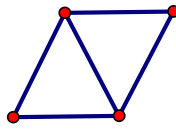
.....

.....

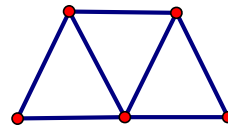
**Bài 5.** An dùng các que diêm để ghép thành hình dưới đây. Nếu theo quy luật đó thì bạn ấy sẽ dùng bao nhiêu que diêm để ghép hình thứ 12?



Hình 1



Hình 2



Hình 3

.....

.....

.....

.....

.....

.....

.....

.....

.....

.....

.....