

BỒI DƯỠNG NĂNG LỰC TOÁN 6
ĐỀ BÀI TẬP VỀ NHÀ

Họ và tên:**Ngày học:**

Câu 1. Các môn thể thao được ưa thích của lớp 6a

Môn thể thao	Kiểm đếm	Số bạn ưa thích
Bóng đá 		18
Cầu lông 		8
Bóng bàn 		2
Đá cầu 		4
Bóng rổ 		5

Các môn thể thao được yêu thích của lớp 6A là:

- A. Cầu lông, bóng bàn, đá cầu, bóng rổ, bóng đá
- B. Bóng chuyền, bóng bàn, bóng đá, đá cầu, bóng rổ
- C. Đá cầu, bóng chuyền, điền kinh, bóng rổ, bóng bàn
- D. Bóng rổ, đá cầu, bóng đá

Câu 2. Số học sinh vắng trong ngày của các lớp khối 6 trường THCS A là

6A1	6A2	6A3	6A4	6A5	6A6	6A7	6A8
2	4	5	1	3	2	2	1

Có bao nhiêu lớp có số học sinh vắng ít nhất

- A. 4
- B. 5
- C. 1
- D. 2

Vinastudy – Chuyên bồi dưỡng Toán từ lớp 4 đến lớp 12
Hệ thống khóa học video, lớp học tương tác qua zoom, học kèm trực tiếp
Đc: Số 23 Ngõ 26 Nguyễn Hồng - Đống Đa - Hà Nội

Câu 3. Cho bảng số liệu đánh giá chất lượng sản phẩm bằng điểm số 1, 2, 3, 4, 5 của một lô hàng gồm 15 sản phẩm như sau:



Điểm	1	2	3	4	5
Số sản phẩm	3	0	5	7	0

Đối tượng thống kê là

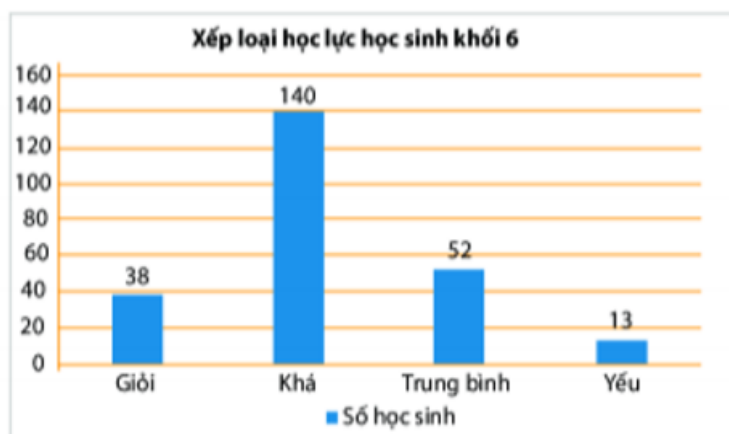
- A. Các điểm số 1, 2, 3, 4, 5. B. Số sản phẩm 3, 0, 5, 7, 0
 C. Điểm số và sản phẩm D. Lô hàng

Câu 4. Hãy đọc bảng dữ liệu thống kê từ biểu đồ tranh sau đây và ghi vào bảng thống kê tương ứng:

Số bóng đèn bán được trong tuần của cửa hàng A	
Ngày	Số bóng đèn
Thứ Hai	
Thứ Ba	
Thứ Tư	
Thứ Năm	
Thứ Sáu	
Thứ Bảy	
Chủ nhật	

( = 10 bóng đèn;  = 5 bóng đèn)

Câu 5. Biểu đồ cột dưới đây cho biết thông tin về kết quả học lực của học sinh khối 6 trường THCS Quang Trung.

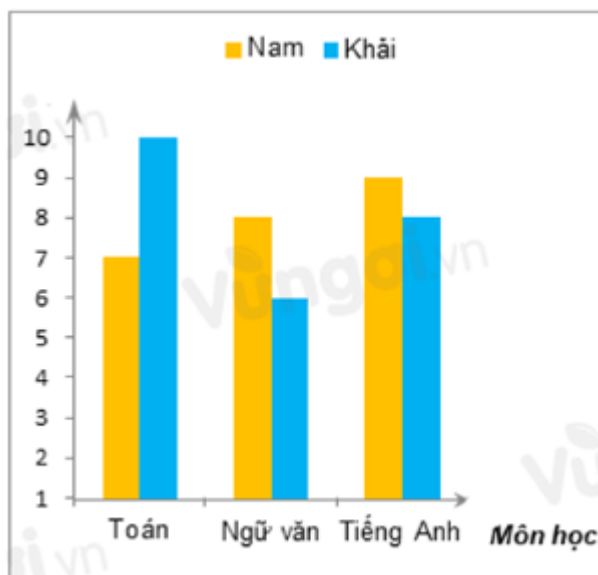


Vinastudy – Chuyên bồi dưỡng Toán từ lớp 4 đến lớp 12
Hệ thống khóa học video, lớp học tương tác qua zoom, học kèm trực tiếp
Đc: Số 23 Ngõ 26 Nguyễn Hồng - Đống Đa - Hà Nội

Số lượng học sinh học lực trung bình ít hơn số lượng học sinh học lực khá là

- A. 88 học sinh B. 90 học sinh
C. 102 học sinh D. 140 học sinh

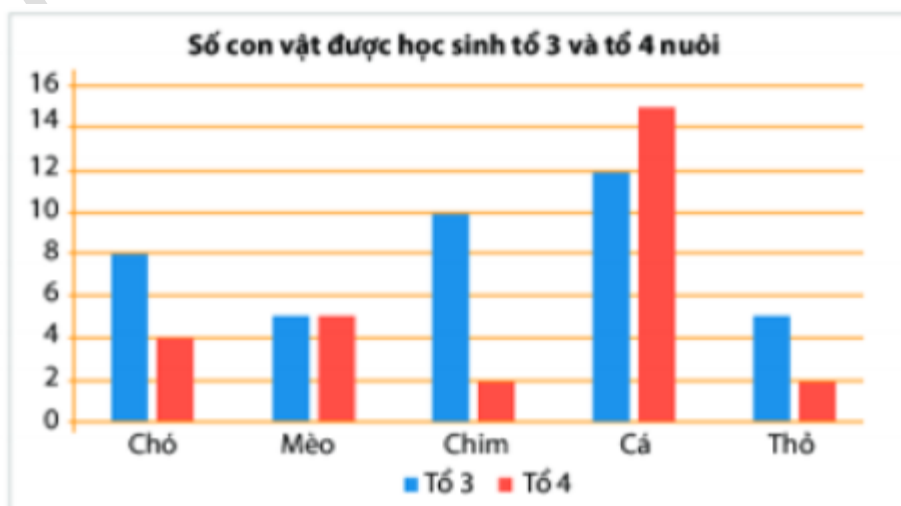
Câu 6. Điểm thi của Nam và Khải được biểu diễn trong biểu đồ cột kép ở hình sau:



Khẳng định nào sau đây đúng?

- A. Điểm Toán của Nam cao hơn Khải
B. Điểm cả 3 môn của Khải cao hơn Nam
C. Điểm Ngữ văn của Nam cao hơn Khải
D. Điểm Ngữ văn của Khải cao hơn Nam

Câu 7. Cho biểu đồ cột kép sau:



Số con cá của tổ 3 và tổ 4 nuôi trong bể ở hình trên là

- A. Tổ 3 là 10, tổ 4 là 14 B. Tổ 3 là 12, tổ 4 là 16
C. Tổ 3 là 12, tổ 4 là 15 D. Tổ 3 là 15, tổ 4 là 12

Câu 8. Biểu đồ tranh dưới đây cho ta thông tin về loại quả yêu thích của các bạn học sinh khối lớp 6.



Trong biểu đồ trên, nếu số bạn yêu thích quả táo là 45 thì ta phải vẽ thêm bao nhiêu biểu tượng?

- A. 20 B. 1
C. 2 D. 4