

BỒI DƯỠNG NĂNG LỰC TOÁN 6

ĐỀ BÀI TẬP VỀ NHÀ

Tài liệu lớp học Zoom 6NTC1 - 18h - 21h15 - Tối thứ 3 - 23/26 Nguyễn Hồng

ĐẠI SỐ

Câu 12: Thực hiện phép tính.

a) $80 - (4 \cdot 5^2 - 3 \cdot 2^3)$

b) $5^6 : 5^4 + 2^3 \cdot 2^2 - 1^{2017}$

c) $5^3 - 2 \cdot [56 - 48 : (15 - 7)]$

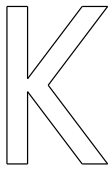
d) $23 \cdot 75 + 5^2 \cdot 10 + 5^2 \cdot 13 + 180$

e) $36 \cdot 4 - 4 \cdot (82 - 7 \cdot 11)^2 : 4 - 2016^0$

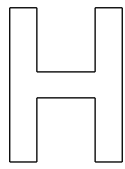
f) $303 - 3 \cdot \{ [655 - (18 : 2 + 1) \cdot 4^3 + 5] \} : 10^0$

HÌNH HỌC

Câu 9. Cho các chữ cái sau, cho biết chữ cái nào có tâm đối xứng và xác định tâm đối xứng của các chữ cái đó.



1)



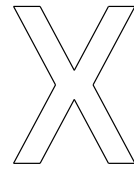
2)



3)



4)



5)




6)



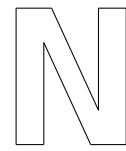
7)



8)



9)

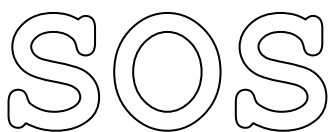


10)

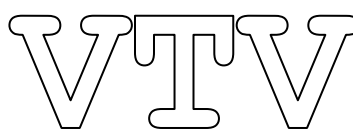
Câu 10. Chữ cái nào sau đây có tâm đối xứng? Chữ cái nào vừa có tâm đối xứng, vừa có trục đối xứng?

SAIGON

Câu 11. Trong các hình sau hình nào có trục đối xứng, hình nào có tâm đối xứng?



a)



b)