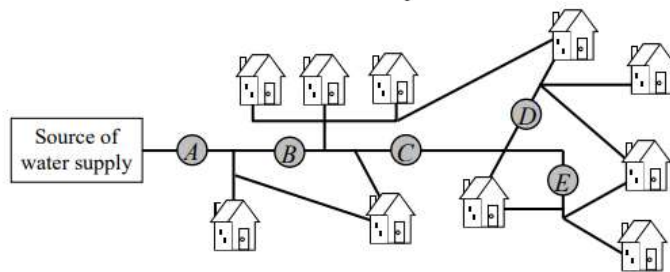


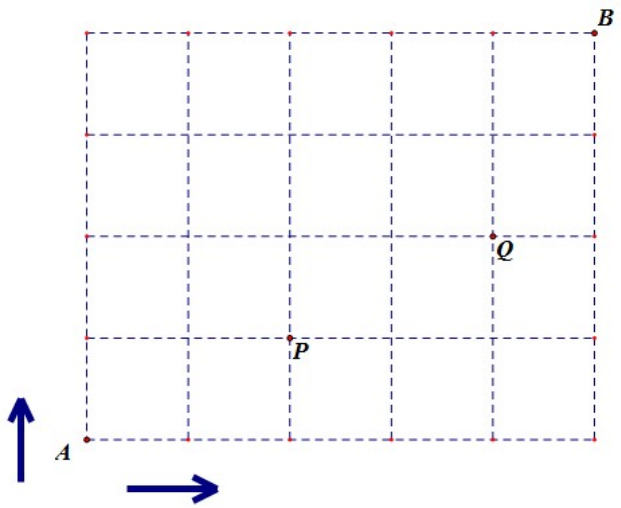
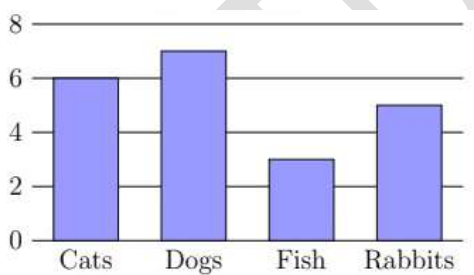
TOÁN LỚP 4: CHIẾN BINH – NỀN TẢNG CHUYÊN
KIỂM TRA PHƯƠNG PHÁP GIẢI TOÁN
 Tài liệu lớp học 4 chiến binh - 18h - 21h - Tối thứ 6 - 23/26 Nguyên Hồng

Họ và tên: Ngày học:.....

Điền câu trả lời vào cột đáp số.

Câu	Nội dung	Đáp số
1	Nam có 4 viên bi đỏ và 3 viên bi xanh, 1 viên bi vàng. Các viên bi cùng màu giống y hệt nhau. Hỏi Nam có bao nhiêu cách xếp 8 viên bi thành 1 hàng mà có 4 viên màu đỏ cạnh nhau?	
2	Cây thông Noel nhà Nhung có 10 cành, mỗi cành nhỏ treo 2 đèn nháy, mỗi cành to treo 4 đèn nháy. Biết rằng tổng số đèn nháy là 34 cái. Hỏi cây thông nhà Nhung có bao nhiêu cành to?	
3	Có bao nhiêu số có 3 chữ số khác nhau lập được từ các chữ số 0, 1, 3, 7, 8?	
4	Có bao nhiêu số có 4 chữ số lập được từ các chữ số 0, 2, 3, 5 mà số lập được có ít nhất 2 chữ số giống nhau?	
5	Tèo mua 3 cái Hot dog và 5 cái Hamburger hết 130 000 đồng. Nếu Tèo mua thêm 2 cái Hot dog và 3 cái Hamburger thì hết 210 000 đồng. Hỏi giá 1 chiếc Hamburger là bao nhiêu?	
6	Sơ đồ thể hiện hệ thống phân phối nước một khu phố. Ở đó có 5 van A, B, C, D, E . Khi van nào mở nước sẽ chảy qua nó, nước chảy vào một nhà sẽ không chảy ra khỏi ngôi nhà đó vào một ngôi nhà khác. Van nào chúng ta phải đóng để có đúng bốn ngôi nhà không có nước?	



7	<p>Có bao nhiêu cách khác nhau đi từ A qua P đến Q rồi về B mà đường đi chỉ được đi theo quy tắc: đi lên hoặc rẽ phải (Đường đi qua thì không đi lại).</p> 											
8	<p>Biểu đồ dưới đây biểu thị số lượng vật nuôi của các học sinh lớp 4A.</p>  <table border="1"><thead><tr><th>Loại vật nuôi</th><th>Số lượng</th></tr></thead><tbody><tr><td>Cats</td><td>6</td></tr><tr><td>Dogs</td><td>7</td></tr><tr><td>Fish</td><td>3</td></tr><tr><td>Rabbits</td><td>5</td></tr></tbody></table> <p>Em hãy quan sát biểu đồ và cho biết học sinh lớp 4A nuôi tất cả bao nhiêu con vật?</p>	Loại vật nuôi	Số lượng	Cats	6	Dogs	7	Fish	3	Rabbits	5	
Loại vật nuôi	Số lượng											
Cats	6											
Dogs	7											
Fish	3											
Rabbits	5											