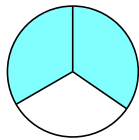


BỒI DƯỠNG NĂNG LỰC TOÁN 4
HƯỚNG DẪN BÀI TẬP VỀ NHÀ

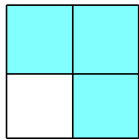
Tài liệu lớp học Zoom 4.2 - 19h45 - 21h15 - Tối Chủ nhật - 23/26 Nguyễn Hồng

Họ và tên:Ngày học:

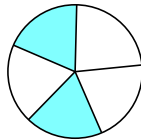
Câu 1. Quan sát hình vẽ và hoàn thành bảng sau:




Hình 1



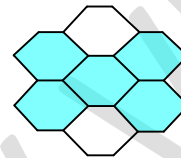
Hình 2



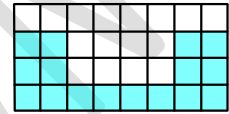
Hình 3



Hình 4



Hình 5



Hình 6

HD:

Hình	Phân số chỉ phần tô đậm	Đọc phân số
1	$\frac{2}{3}$	Hai phần ba
2	$\frac{3}{4}$	Ba phần tư
3	$\frac{2}{5}$	Hai phần năm
4	$\frac{4}{9}$	Bốn phần chín
5	$\frac{5}{7}$	Năm phần bảy
6	$\frac{16}{32}$	Mười sáu phần ba mươi hai

Câu 9. Trong các nhóm hai phân số dưới đây, nhóm nào có hai phân số bằng nhau? (Các con trình bày giống câu 3)

a) $\frac{5}{6}$ và $\frac{15}{24}$

b) $\frac{3}{5}$ và $\frac{21}{35}$

c) $\frac{8}{12}$ và $\frac{2}{3}$

d) $\frac{3}{3}$ và $\frac{90}{90}$

e) $\frac{9}{27}$ và $\frac{1}{3}$

g) $\frac{3}{7}$ và $\frac{15}{28}$

HD:

a) $\frac{5}{6}$ và $\frac{15}{24}$. Ta có: $\frac{5}{6} = \frac{5 \times 4}{6 \times 4} = \frac{20}{24}$ khác với $\frac{15}{24}$

b) $\frac{3}{5}$ và $\frac{21}{35}$. Ta có: $\frac{3}{5} = \frac{3 \times 7}{5 \times 7} = \frac{21}{35}$

c) $\frac{8}{12}$ và $\frac{2}{3}$. Ta có: $\frac{2}{3} = \frac{2 \times 4}{3 \times 4} = \frac{8}{12}$

d) $\frac{3}{3}$ và $\frac{90}{90}$. Ta có: $\frac{3}{3} = \frac{3 \times 30}{3 \times 30} = \frac{90}{90}$

e) $\frac{9}{27}$ và $\frac{1}{3}$. Ta có: $\frac{1}{3} = \frac{1 \times 9}{3 \times 9} = \frac{9}{27}$

g) $\frac{3}{7}$ và $\frac{15}{28}$. Ta có $\frac{3}{7} = \frac{3 \times 4}{7 \times 4} = \frac{12}{28}$ khác với $\frac{15}{28}$

Vậy nhóm có hai phân số bằng nhau là: b, c, d, e.