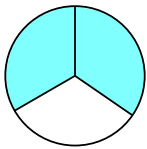


**BỒI DƯỠNG NĂNG LỰC TOÁN 4**  
**ĐỀ BÀI TẬP VỀ NHÀ**

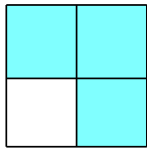
Tài liệu lớp học Zoom 4.2 - 19h45 - 21h15 - Tối Chủ nhật - 23/26 Nguyễn Hồng

Họ và tên: .....Ngày học: .....

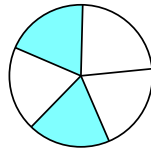
Câu 1. Quan sát hình vẽ và hoàn thành bảng sau:




Hình 1



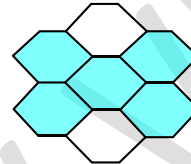
Hình 2



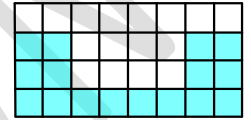
Hình 3



Hình 4



Hình 5



Hình 6

Hình	Phân số chỉ phần tô đậm	Đọc phân số
1		
2		
3		
4		
5		
6		

Câu 9. Trong các nhóm hai phân số dưới đây, nhóm nào có hai phân số bằng nhau? (Các con trình bày giống câu 3)

a)  $\frac{5}{6}$  và  $\frac{15}{24}$

b)  $\frac{3}{5}$  và  $\frac{21}{35}$

c)  $\frac{8}{12}$  và  $\frac{2}{3}$

d)  $\frac{3}{3}$  và  $\frac{90}{90}$

e)  $\frac{9}{27}$  và  $\frac{1}{3}$

g)  $\frac{3}{7}$  và  $\frac{15}{28}$