

BỒI DƯỠNG NĂNG LỰC TOÁN 4
HƯỚNG DẪN ĐỀ BÀI TẬP VỀ NHÀ

Tài liệu lớp học 4 Chiến binh - 18h - 21h - Tối thứ 6 - 23/26 Nguyên Hồng

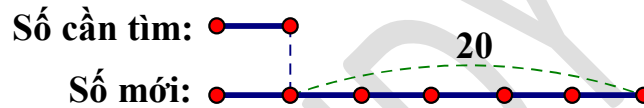
Họ và tên:Ngày học:

CA 2

Câu 5. Tìm số có một chữ số, biết rằng khi viết thêm số 2 vào bên trái số đó ta được số mới gấp 6 lần số cần tìm.

HD

Khi viết thêm chữ số 2 vào bên trái số có một chữ số ta được số mới hơn số cần tìm 20 đơn vị.



Hiệu số phần bằng nhau là: $6 - 1 = 5$

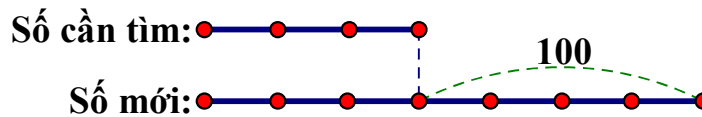
Số cần tìm là: $20 : 5 \times 1 = 4$

Đáp số: 4

Câu 6. Tìm số có hai chữ số, biết rằng khi viết thêm chữ số 1 vào bên trái số đó ta được hai số có tỉ số là $\frac{3}{7}$.

HD

Khi viết thêm chữ số 1 vào bên trái số có hai chữ số ta được số mới hơn số cần tìm 100 đơn vị.



Hiệu số phần bằng nhau là: $7 - 3 = 4$

Số cần tìm là: $100 : 4 \times 3 = 75$

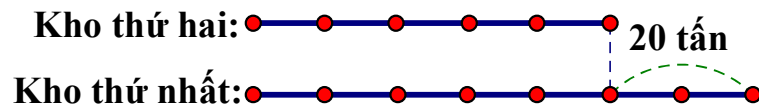
Đáp số: 75

Câu 7. Kho thứ nhất nhiều hơn kho thứ hai là 20 tấn gạo. Sau khi mỗi kho nhập thêm 20 tấn gạo thì số gạo ở kho thứ hai bằng $\frac{5}{7}$ kho thứ nhất. Hỏi lúc đầu mỗi kho có bao nhiêu tấn gạo?

HD

Sau khi mỗi kho nhập thêm 20 tấn gạo thì kho thứ nhất vẫn nhiều hơn kho thứ hai 20 tấn (hiệu không đổi).

Ta có sơ đồ số gạo ở mỗi kho lúc sau:



Hiệu số phần bằng nhau là: $7 - 5 = 2$ (phần)

Số gạo ở kho thứ nhất lúc sau là: $20 : 2 \times 7 = 70$ (tấn)

Số gạo ở kho thứ nhất lúc đầu là: $70 - 20 = 50$ (tấn)

Số gạo ở kho thứ hai lúc đầu là: $50 - 20 = 30$ (tấn)

Đáp số: Kho thứ nhất: 50 tấn; kho thứ hai: 30 tấn