

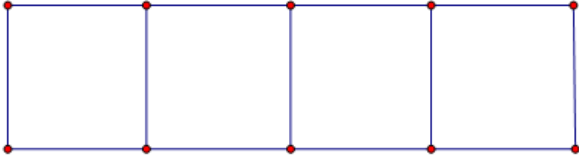
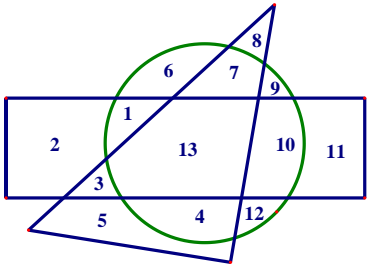
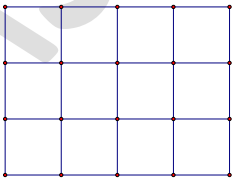
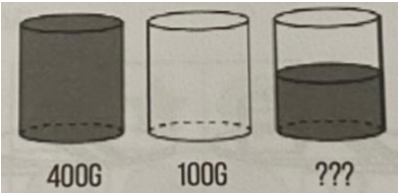
BỒI DƯỠNG NĂNG LỰC TOÁN 4

KIỂM TRA

Tài liệu lớp học 4 Chiến binh - 18h - 21h - Tối thứ 6 - 23/26 Nguyên Hồng

Họ và tên:Ngày học:.....

STT	Câu hỏi	Đáp án
1	Tính giá trị: $37 \times 18 - 9 \times 14 + 100$.	
2	Tính tổng sau: $6 + 12 + 18 + 24 + \dots + 84 + 90$.	
3	Bạn An viết dãy số: 1,0,0,1,0,0,1,0,0,1... (Bắt đầu là số 1, tiếp đến 2 số 0 rồi lại đến số 1, ...). Khi viết đến số hạng thứ 100 thì ta viết bao nhiêu số 1?	
4	Hiện nay, tuổi anh gấp 3 lần tuổi em. Hỏi khi tuổi em tăng lên gấp đôi thì tuổi anh gấp mấy lần tuổi em?	
5	Một hình chữ nhật có chiều rộng là 4cm, chiều dài gấp 3 lần chiều rộng. Một hình vuông có chu vi bằng chu vi hình chữ nhật. Tính diện tích hình vuông đó.	
6	Susan và chị Maggie đi đến trường mỗi ngày, tuy nhiên hai bạn ấy lại đi bằng hai con đường khác nhau như hình dưới đây. Bạn hãy so sánh đoạn đường mà hai chị em đi.	
7	Có 1950 quyển sách xếp đều vào 6 ngăn. Hỏi 4 ngăn như thế có bao nhiêu quyển sách?	
8	Ghép 4 hình vuông như nhau thành 1 hình chữ nhật (hình vẽ). Biết chu vi hình chữ nhật đó là 72dm. Tính độ dài một cạnh hình vuông theo đơn vị xăng – ti – mét?	

		
<p>9</p>	<p>Trong hình dưới đây, số nào nằm bên trong hình chữ nhật và hình tròn nhưng lại nằm ngoài hình tam giác?</p> 	
<p>10</p>	<p>Trong túi có ba loại bi: bi đỏ, bi vàng và bi xanh. Biết rằng số bi của cả túi nhiều hơn tổng số bi vàng và bi đỏ là 15 viên, số bi xanh ít hơn số bi vàng là 3 viên và nhiều hơn bi đỏ là 4 viên. Hỏi trong túi có bao nhiêu viên bi?</p>	
<p>11</p>	<p>Tìm diện tích của một hình chữ nhật, biết rằng nếu tăng chiều rộng lên 8cm và giảm chiều dài đi 9cm thì hình chữ nhật trở thành hình vuông có chu vi 64cm.</p>	
<p>12</p>	<p>Đếm xem hình sau có bao nhiêu hình vuông:</p> 	
<p>13</p>	<p>Một hình chữ nhật có chiều dài gấp 3 lần chiều rộng và có diện tích bằng 75cm^2. Tính chu vi hình chữ nhật đó.</p>	
<p>14</p>	<p>Một chiếc cốc chứa đầy nước nặng 400 gram. Trong khi một chiếc cốc không chứa nước nặng 100 gram. Hỏi chiếc cốc chứa một nửa lượng nước nặng bao nhiêu gram?</p> 	

15	Trong lớp học khiêu vũ của tôi, 14 học sinh cao hơn Bob, và 12 học sinh thấp hơn Alice. Bốn học sinh đều thấp hơn Alice và cao hơn Bob. Có bao nhiêu học sinh trong lớp học khiêu vũ của tôi?	
----	---	--

VINASTUDY.VN