

BỒI DƯỠNG NĂNG LỰC TOÁN 3
ÔN TẬP BẢNG NHÂN - BẢNG CHIA 2; 5
ÔN TẬP HÌNH HỌC VÀ ĐO LƯỜNG
Tài liệu lớp học 3AV - 23/26 Nguyễn Hồng

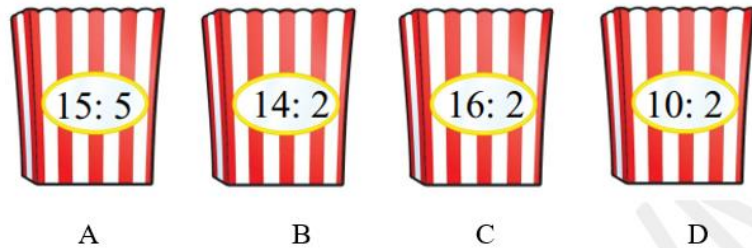
Họ và tên:Ngày học:

Phần I. Ôn tập bảng chia 2, chia 5

Câu 1. Điền dấu "> ; = ; <" thích hợp vào chỗ chấm:

- a) $35 : 5$ 6 b) 10 $40 : 5$
c) 2×5 $20 : 2$ d) 7×2 5×3
e) $18 : 2$ 5×2 f) $12 : 2$ $15 : 5$

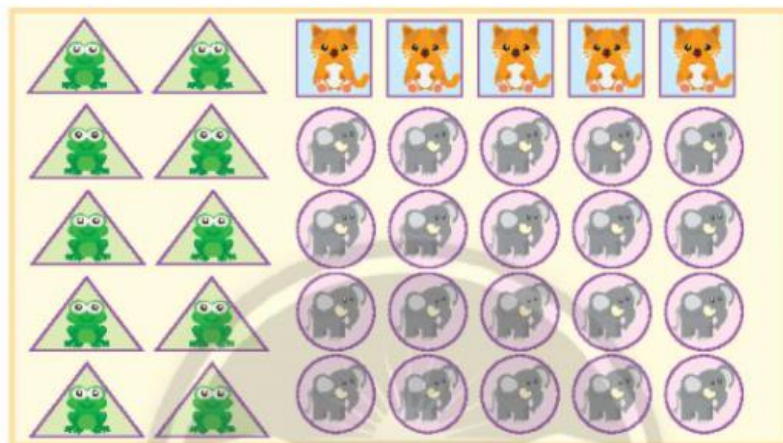
Câu 2. Phép tính nào dưới đây có kết quả bằng 7?



Câu 3.

- a) Mỗi ngày Vân đọc 2 trang sách. Vân sẽ đọc xong 20 trang sách trong ? ngày.
b) Mỗi ngày Tiến đọc số trang sách như nhau, bạn đọc xong 35 trang sách trong 5 ngày. Mỗi ngày Tiến đọc được ? trang sách.
c) Mỗi ngày Thu đọc 5 trang sách. Sau 6 ngày Thu đọc được ? trang sách.
c) Mỗi ngày Thu đọc 5 trang sách. Sau 6 ngày Thu đọc được ? trang sách.

Câu 4. Dưới đây là một số miếng dán cô giáo dùng làm phần thưởng cho học sinh:



- a) Cô giáo có mấy loại miếng dán?
b) Viết phép nhân phù hợp để tính số lượng miếng dán của mỗi loại?
c) Cô giáo thưởng đều các miếng dán cho 5 bạn. Hỏi mỗi bạn nhận được bao nhiêu miếng dán mỗi loại?

Câu 5. Số?

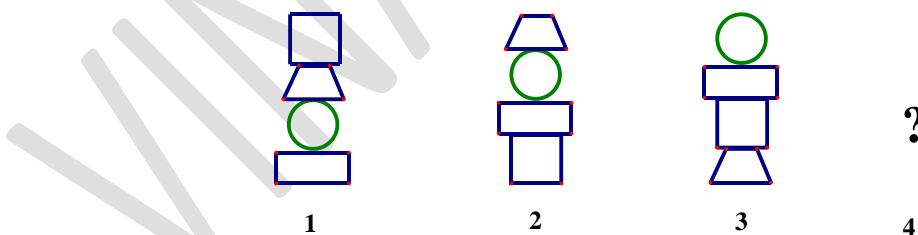
Lớp 3C có 20 con thú bông để biểu diễn múa rối tay (xem hình).

- a) Nếu mỗi bạn điều khiển 1 cặp thú bông thì cần ..?.. bạn tham gia biểu diễn.
b) Nếu mỗi bạn điều khiển 5 con thú bông thì cần ...?.. bạn tham gia biểu diễn.

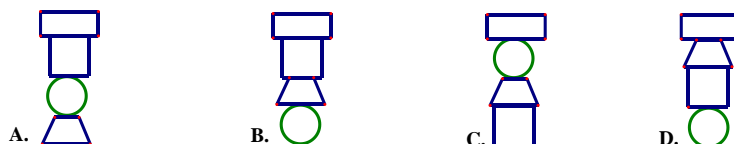


Phần II. Ôn tập hình học và đo lường

Câu 6. Emily xây dựng các tòa tháp theo quy luật sau.



- a) Hỏi bạn ấy đã sử dụng những miếng ghép có hình gì?
b) Hình nào dưới đây là hình thứ 4?



Câu 7. Chọn đồng hồ phù hợp với cách đọc.



A. 3 giờ kém 12 phút

B. 3 giờ 18 phút

C. 10 giờ 3 phút

D. 10 giờ 21 phút



Câu 8. Mừng xuân mới, trường em tổ chức thi vẽ với chủ đề “Đất nước em”.

Bắt đầu vẽ lúc:



Vẽ xong tranh lúc:



- a) Chúng em bắt đầu vẽ lúc ..?... giờ.
 b) Lớp 3A vẽ xong lúc ..?... giờ ..?... phút.
 Lớp 3B vẽ xong lúc ...?... giờ ...?... phút
 c) Thời gian lớp 3A vẽ nhanh hơn lớp 3B là ...?... phút.

Câu 9. Số?

Buổi sáng ngày 20 tháng 11 ở lớp em.

Bắt đầu



Kết thúc



- a) Chúng em bắt đầu liên hoan văn nghệ vào lúc ..?... giờ ...?... phút và kết thúc lúc ...?... giờ kém ..?... phút.
 b) Buổi liên hoan văn nghệ kéo dài trong?... phút?

Câu 10. Tổng các chữ số trên mỗi chiếc đồng hồ là như nhau. Số hiển thị trên chiếc đồng hồ cuối cùng có thể là số nào sau đây?

7:32

4:44

9:21

?

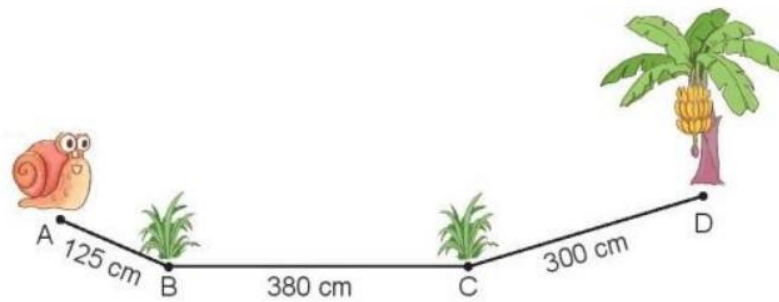
A. 10:00

B. 9:37

C. 11:57

D. 8:31

Câu 11. Con ốc sên bò đến cây chuối theo đường gấp khúc ABCD. Hỏi con ốc sên phải bò quãng đường bao nhiêu xăng-ti-mét để đến cây chuối?



Câu 12. Kể tên các hình xuất hiện dưới đây. Trong các hình sau, hình nào khác ba hình còn lại?



A.



B.

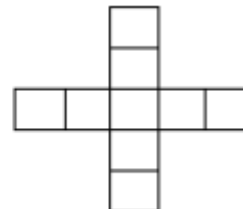
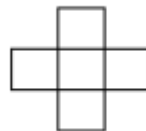


C.

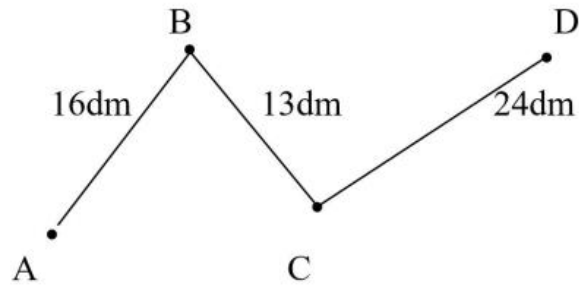


D.

Câu 13. Quan sát quy luật hình dưới đây và cho biết hình thứ 5 gồm bao nhiêu ô vuông nhỏ.



Câu 14. Một con kiến bò từ A đến D (như hình vẽ, qua B và C). Tính độ dài quãng đường con kiến đã bò.



Câu 15. Trong can có 18 lít nước. Mẹ đã rót 7 lít nước vào các chai. Hỏi trong can còn lại bao nhiêu lít nước?

VINASTUDY.VN