

BỒI DƯỠNG NĂNG LỰC TOÁN 3
BÀI TẬP VỀ NHÀ
Tài liệu lớp học 3AV - 23/26 Nguyễn Hồng

Họ và tên:Ngày học:

Câu 1. Điền dấu thích hợp vào chỗ chấm:

a) $2 \times 3 \dots 6$

$2 \times 4 \dots 2 \times 5$

$3 \times 7 \dots 3 \times 6$

b) $3 \times 2 \dots 5 \times 1$

$3 \times 8 \dots 5 \times 5$

$3 \times 5 \dots 2 \times 8$

c) $20 : 2 \dots 2 \times 5$

$3 \times 10 \dots 5 \times 6$

$5 \times 6 \dots 3 \times 9$

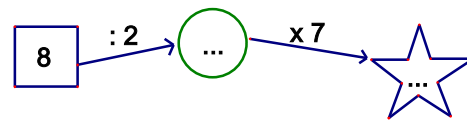
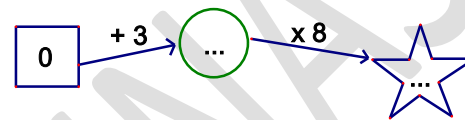
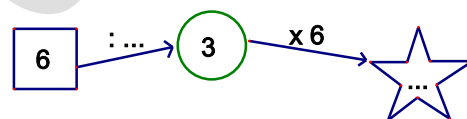
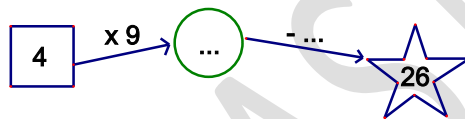
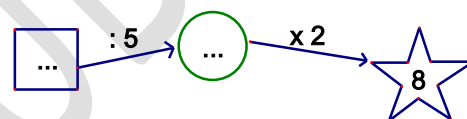
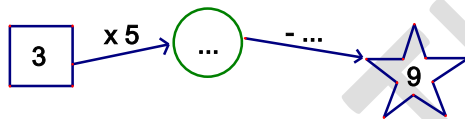
d) $4 \times 5 \dots 2 \times 10$

$5 \times 7 \dots 3 \times 10$

$5 \times 2 \dots 3 \times 4$

Câu 2. Một thùng đựng 24 lít. Thùng đang rỗng, cô Xuân đổ vào thùng 4 can dầu, mỗi can đựng 4 lít dầu. Hỏi cô Xuân đổ vào đã đầy thùng chưa?

Câu 3. Điền số thích hợp vào chỗ chấm:



Câu 4. Mẹ có một bó hoa hồng. Mẹ cắm hoa vào 5 lọ hoa hồng, mỗi bình có 4 bông thì vừa đủ.

a) Hỏi bó hoa của mẹ có bao nhiêu bông hoa?

b) Mẹ tặng bà 5 bông hoa, số hoa còn lại mẹ cắm đều vào 5 lọ. Hỏi khi đó mỗi lọ có bao nhiêu bông hoa?

Câu 5. Minh cân nặng 31kg. Hà nặng hơn Minh 3kg.

a) Hỏi Hà cân nặng bao nhiêu ki-lô-gam?

b) Hỏi cả hai bạn cân nặng bao nhiêu ki-lô-gam?