

BỒI DƯỠNG NĂNG LỰC TOÁN 3
BẢNG NHÂN 3, NHÂN 4
 Tài liệu lớp học 3AV - 23/26 Nguyễn Hồng

Họ và tên: Ngày học:

A. Kiến thức cần nhớ

Bảng nhân 3



$3 \times 1 = 3$	$3 \times 6 = 18$
$3 \times 2 = 6$	$3 \times 7 = 21$
$3 \times 3 = 9$	$3 \times 8 = 24$
$3 \times 4 = 12$	$3 \times 9 = 27$
$3 \times 5 = 15$	$3 \times 10 = 30$

Bảng nhân 4



$4 \times 1 = 4$	$4 \times 6 = 24$
$4 \times 2 = 8$	$4 \times 7 = 28$
$4 \times 3 = 12$	$4 \times 8 = 32$
$4 \times 4 = 16$	$4 \times 9 = 36$
$4 \times 5 = 20$	$4 \times 10 = 40$

B. Bài tập

Câu 1. Tính nhẩm:

$3 \times 3 = \dots$

$3 \times 9 = \dots$

$3 \times 10 = \dots$

$3 \times 5 = \dots$

$3 \times 2 = \dots$

$3 \times 6 = \dots$

$3 \times 7 = \dots$

$3 \times 4 = \dots$

$3 \times 8 = \dots$

Câu 2. Tính nhẩm:

$4 \times 3 = \dots$

$4 \times 9 = \dots$

$4 \times 10 = \dots$

$4 \times 5 = \dots$

$4 \times 2 = \dots$

$4 \times 6 = \dots$

$4 \times 7 = \dots$

$4 \times 4 = \dots$

$4 \times 8 = \dots$

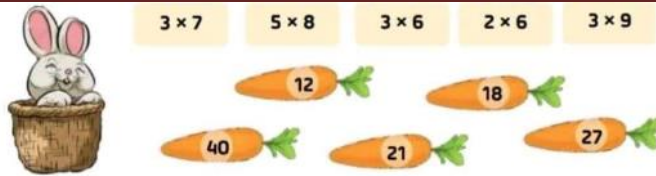
Câu 3. Số?

Thừa số	3	3	4	4	5	5	3	5
Thừa số	6	9	7	8	10	6	7	2
Tích								

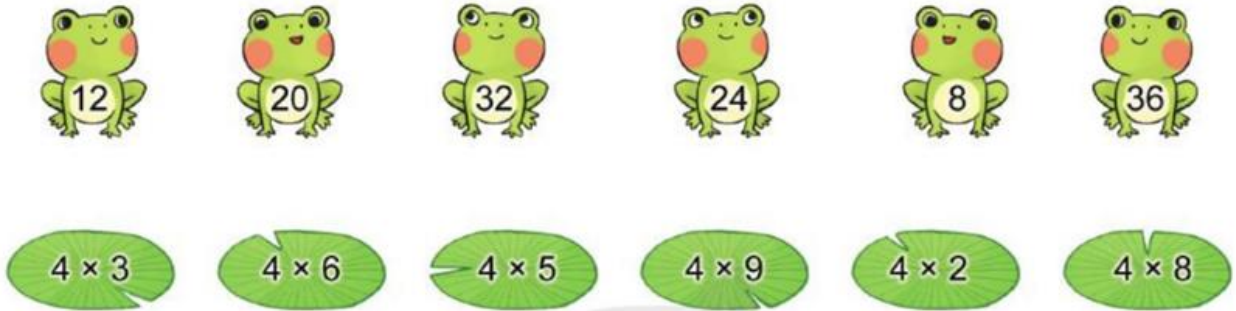
Câu 4. Quan sát bức tranh và viết phép nhân thích hợp:

<p>a)</p> <p style="text-align: center;">$\square \times \square = \square$</p>	<p>b)</p> <p style="text-align: center;">$\square \times \square = \square$</p>
--------------------------------------------------------------------------------------------	--------------------------------------------------------------------------------------------

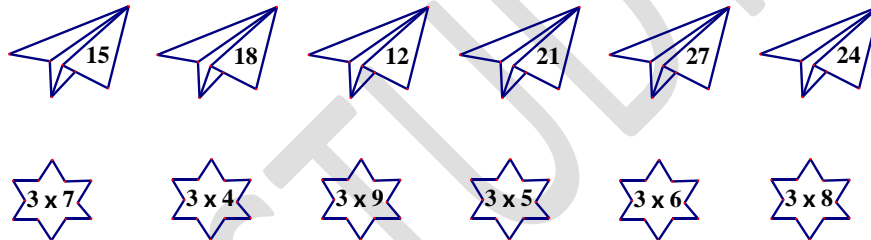
Câu 5. Hãy giúp chú thỏ thu hoạch cà rốt bằng cách nối phép tính với kết quả đúng.



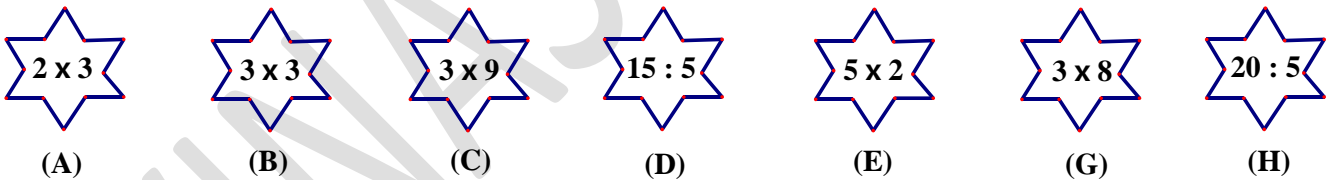
Câu 6. Chọn kết quả đúng với mỗi phép tính:



Câu 7. Nối phép tính với kết quả đúng:



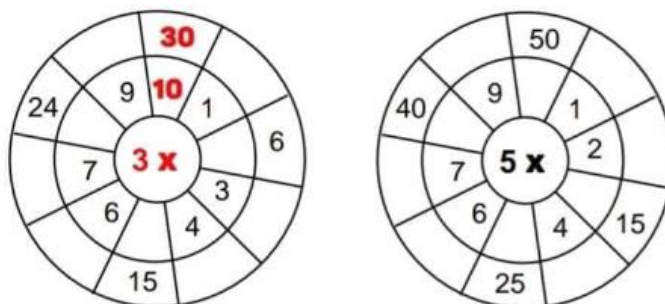
Câu 8. Tính và sắp xếp theo thứ tự từ bé đến lớn



Câu 9. Điền dấu thích hợp vào chỗ chấm:

- | | | |
|-----------------------------------|--------------------------------|-------------------------------|
| a) $2 \times 3 \dots 6$ | $2 \times 4 \dots 2 \times 5$ | $3 \times 7 \dots 3 \times 6$ |
| b) $3 \times 2 \dots 5 \times 1$ | $3 \times 8 \dots 5 \times 5$ | $3 \times 5 \dots 2 \times 8$ |
| c) $20 : 2 \dots 2 \times 5$ | $3 \times 10 \dots 5 \times 6$ | $5 \times 6 \dots 3 \times 9$ |
| d) $4 \times 5 \dots 2 \times 10$ | $5 \times 7 \dots 3 \times 10$ | $5 \times 2 \dots 3 \times 4$ |

Câu 10. Tính (theo mẫu)



Câu 11. Tính:

- a) Tích của 3 và số bé nhất có hai chữ số.
- b) Tích của 4 và số lớn nhất có một chữ số.
- c) Tích của 5 và số liền trước số lớn nhất có một chữ số.

Câu 12. Cô giáo có 20 quyển sách. Cô dự định thưởng cho 6 bạn học sinh giỏi mỗi bạn 4 quyển sách. Hỏi cô giáo có đủ sách để phát thưởng cho các bạn học sinh giỏi không?

Câu 13. Một thùng đựng 24 lít. Thùng đang rỗng, cô Xuân đổ vào thùng 4 can dầu, mỗi can đựng 4 lít dầu. Hỏi cô Xuân đổ vào đã đầy thùng chưa?

Câu 14. Tính (theo mẫu):

Mẫu: $3 \times 6 + 2 = 18 + 2$
 $= 20$

- a) $4 \times 7 + 2$
- b) $5 \times 7 + 5$
- c) $2 + 4 \times 8$
- d) $3 \times 4 + 5$
- e) $5 + 5 \times 9$
- f) $3 \times 4 + 7$
- g) $4 \times 4 + 2$
- h) $5 \times 7 + 8$
- i) $9 + 4 \times 4$

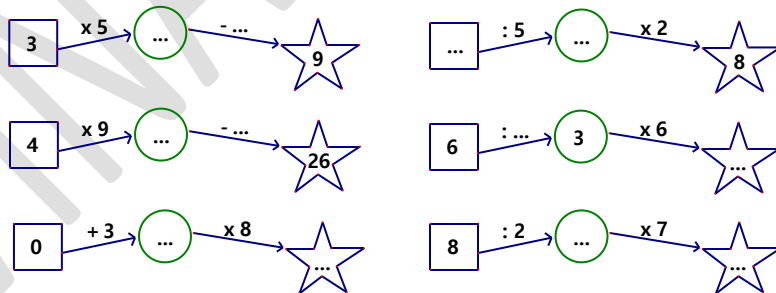
Câu 15. Tính bằng hai cách (theo mẫu):

Mẫu: $4 \times 2 \times 2$

Cách 1: $4 \times 2 \times 2 = (4 \times 2) \times 2 = 8 \times 2 = 16$	Cách 2: $4 \times 2 \times 2 = 4 \times (2 \times 2) = 4 \times 4 = 16$
--------------------------------------------------------------------------------	--------------------------------------------------------------------------------

- a) $3 \times 2 \times 2$
- b) $5 \times 2 \times 4$

Câu 16. Số?



Câu 17. Mẹ có một bó hoa hồng. Mẹ cắm hoa vào 5 lọ hoa hồng, mỗi bình có 4 bông thì vừa đủ.

- a) Hỏi bó hoa của mẹ có bao nhiêu bông hoa?
- b) Mẹ tặng bà 5 bông hoa, số hoa còn lại mẹ cắm đều vào 5 lọ. Hỏi khi đó mỗi lọ có bao nhiêu bông hoa?

Câu 18. Lớp 4A chia thành 6 nhóm tham gia trồng cây. Mỗi nhóm có 4 bạn.

- a) Hỏi lớp 4A có bao nhiêu bạn?
- b) Sau đó 2 nhóm được cử đi trang trí bảng. Hỏi lớp 4A còn lại bao nhiêu học sinh tham gia trồng cây?

Câu 19. Bà ngoại có 8 túi bánh rán, mỗi túi có 3 chiếc bánh. Bà cho 5 cháu, mỗi cháu 1 túi bánh. Hỏi bà còn lại mấy chiếc bánh rán?

Câu 20. Mỗi tuần có 7 ngày. Trong kỳ nghỉ hè mỗi tuần Lan sang nhà bà ngoại chơi 4 ngày là thứ Năm, thứ Sáu, thứ Bảy và Chủ Nhật. Hỏi 5 tuần như thế Lan ở nhà với bố mẹ tất cả bao nhiêu ngày?

Câu 21. Sắp đến Tết, ông ngoại Tâm trồng hoa để trang trí sân nhà. Ngày thứ nhất ông trồng được 3 chậu hoa, ngày thứ hai ông trồng được 4 chậu hoa, ngày thứ ba ông trồng được 5 chậu hoa. Biết mỗi chậu hoa có ba cây hoa. Hỏi trong ba ngày ông ngoại Tâm trồng

VINASTUDY.VN