

BỒI DƯỠNG NĂNG LỰC TOÁN 3
BẢNG NHÂN 6, NHÂN 7
Tài liệu lớp học 3AV - 23/26 Nguyễn Hồng

Họ và tên: Ngày học:

Câu 1. Tính nhẩm:

a)

$6 \times 2 =$ $6 \times 5 =$ $6 \times 6 =$ $6 \times 7 =$

$6 \times 4 =$ $6 \times 3 =$ $6 \times 9 =$ $6 \times 0 =$

$6 \times 8 =$ $6 \times 1 =$ $6 \times 10 =$ $1 \times 6 =$

b)

$7 \times 2 =$ $7 \times 5 =$ $7 \times 6 =$ $7 \times 7 =$

$7 \times 4 =$ $7 \times 3 =$ $7 \times 9 =$ $7 \times 0 =$

$7 \times 8 =$ $7 \times 1 =$ $7 \times 10 =$ $1 \times 7 =$

Câu 2. Điền vào “>, <, =” vào chỗ chấm :

a) $6 \times 3 \dots 6 \times 3 + 6$ d) $7 \times 5 \dots 7 \times 3 + 7 \times 2$

b) $6 \times 4 \dots 5 \times 4$ e) $6 \times 8 \dots 7 \times 7$

c) $2 \times 6 \dots 6 \times 2$ f) $6 \times 4 \dots 5 \times 4$

Câu 3. Viết số có một chữ số thích hợp vào chỗ chấm:


a) $7 \times \dots > 7 \times 8$

b) $7 \times \dots < 7 \times 1$

c) $7 \times \dots = 7 \times \dots + 7 = 35$

d) $7 \times \dots = 7 \times \dots + 7 = 42$

Câu 4. Viết phép tính thích hợp vào chỗ chấm:



a) Mỗi hàng có 7 ô vuông, có 4 hàng.

Số ô vuông trong hình chữ nhật là:

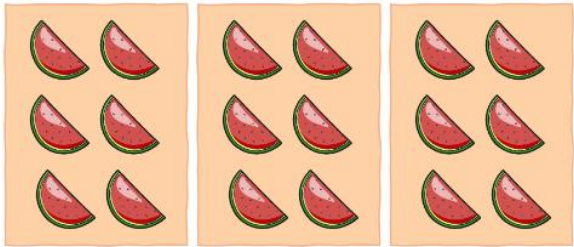




..... = 28 (ô vuông)

b) Mỗi cột có 4 ô vuông có 7 cột.


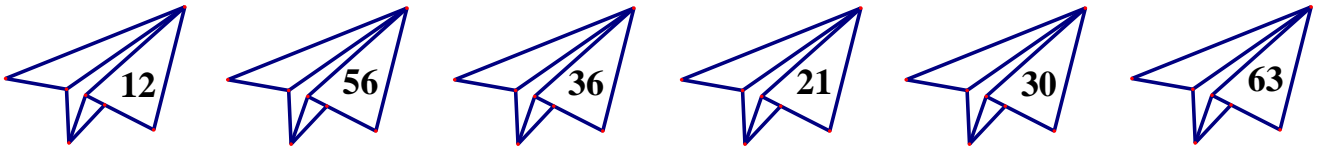
.....= 28 (ô vuông)

Nhận xét :=

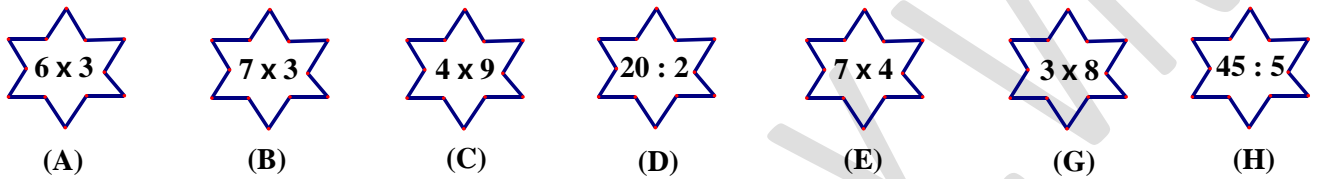
Câu 5. Viết phép nhân thích hợp với mỗi tranh vẽ sau:

<p>a)</p>  <p><input type="text"/> x <input type="text"/> = <input type="text"/></p>	<p>b)</p> <p><input type="text"/> x <input type="text"/> = <input type="text"/></p> 
<p>c)</p> <p><input type="text"/> x <input type="text"/> = <input type="text"/></p> 	<p>d)</p> <p><input type="text"/> x <input type="text"/> = <input type="text"/></p> 
<p>e)</p> <p><input type="text"/> x <input type="text"/> = <input type="text"/></p> 	

Câu 6. Nối phép tính với kết quả đúng:



Câu 7. Tính rồi sắp xếp theo thứ tự tăng dần:



Câu 8. Tính:

- | | | | |
|----------------------|----------------------|------------------------------|----------------------|
| a) $7 \times 5 + 15$ | b) $7 \times 7 + 21$ | c) $7 \times 9 + 17$ | d) $7 \times 4 + 32$ |
| e) $6 \times 6 + 37$ | f) $6 \times 8 - 36$ | g) $6 \times 2 + 5 \times 6$ | |

Câu 9. Tính giá trị biểu thức:

- | | |
|------------------------------|------------------------|
| a) $6 \times 7 + 121$ | b) $140 - 6 \times 10$ |
| c) $7 \times 6 + 6 \times 5$ | d) $500 - 7 \times 8$ |

Câu 10. Tính giá trị biểu thức:

- | | |
|-------------------------------|----------------------------|
| a) $6 \times 10 - 7 \times 4$ | b) $155 - 7 \times 9 + 31$ |
| c) $200 - 6 \times 3 - 45$ | d) $150 + 6 \times 7 - 10$ |

Câu 11. Cửa hàng đã bán 10 thùng dầu ăn, mỗi thùng chứa 6 chai dầu. Hỏi cửa hàng đã bán tất cả bao nhiêu chai dầu?

Câu 12. Trang mua 3 quyển truyện tranh, mỗi quyển truyện tranh giá 6 nghìn đồng. Trang đưa cho cô bán hàng 20 nghìn đồng. Hỏi:

- Trang mua 3 quyển truyện tranh hết bao nhiêu tiền?
- Cô bán hàng phải trả lại Trang bao nhiêu tiền?

Câu 13. Tìm x :

- | | |
|--------------------|---------------------|
| a) $x : 7 = 3 + 4$ | b) $x : 7 = 10 - 4$ |
| | |
| | |
| | |

Câu 14. Số?

$$\textcircled{6} \xrightarrow{\times 2} \text{⬡} \xrightarrow{- 2} \square \xrightarrow{: 2} \textcircled{\quad}$$

$$\textcircled{15} \xrightarrow{: 5} \text{⬡} \xrightarrow{+ 4} \square \xrightarrow{\times 7} \textcircled{\quad}$$

$$\textcircled{12} \xrightarrow{+ 120} \text{⬡} \xrightarrow{- 126} \square \xrightarrow{\times 8} \textcircled{\quad}$$

$$\textcircled{14} \xrightarrow{: 2} \text{⬡} \xrightarrow{\times 6} \square \xrightarrow{- 34} \textcircled{\quad}$$

Câu 15. Bà ngoại có 8 túi bánh rán, mỗi túi có 6 chiếc bánh. Bà cho 5 cháu, mỗi cháu 1 túi bánh. Hỏi bà còn lại mấy chiếc bánh rán?

Câu 16. Mỗi tuần có 7 ngày.

a) Hỏi 5 tuần như có tất cả bao nhiêu ngày?

b) Trong kỳ nghỉ hè mỗi tuần Lan sang nhà bà ngoại chơi 4 ngày là thứ Năm, thứ Sáu, thứ Bảy và Chủ Nhật. Hỏi 5 tuần như thế Lan ở nhà với bố mẹ tất cả bao nhiêu ngày?

Câu 17. Sắp đến Tết, ông ngoại Tâm trồng hoa để trang trí sân nhà. Ngày thứ nhất ông trồng được 3 chậu hoa, ngày thứ hai ông trồng được 4 chậu hoa, ngày thứ ba ông trồng được 5 chậu hoa. Biết mỗi chậu hoa có 7 cây hoa. Hỏi trong ba ngày ông ngoại Tâm trồng được tất cả bao nhiêu cây hoa?