

**BỒI DƯỠNG NĂNG LỰC TOÁN 3**  
**BẢNG NHÂN 8, NHÂN 9**  
Tài liệu lớp học 3AV - 23/26 Nguyễn Hồng

Họ và tên: ..... Ngày học: .....

**I. Kiến thức cần nhớ**

**Bảng nhân 8**



$8 \times 1 = 8$	$8 \times 6 = 48$
$8 \times 2 = 16$	$8 \times 7 = 56$
$8 \times 3 = 24$	$8 \times 8 = 64$
$8 \times 4 = 32$	$8 \times 9 = 72$
$8 \times 5 = 40$	$8 \times 10 = 80$

**Bảng nhân 9**



$9 \times 1 = 9$	$9 \times 6 = 54$
$9 \times 2 = 18$	$9 \times 7 = 63$
$9 \times 3 = 27$	$9 \times 8 = 72$
$9 \times 4 = 36$	$9 \times 9 = 81$
$9 \times 5 = 45$	$9 \times 10 = 90$

**II. Bài tập**

**Câu 1. Tính nhẩm:**

$8 \times 4 =$

$8 \times 6 =$

$8 \times 5 =$

$8 \times 9 =$

$8 \times 3 =$

$8 \times 2 =$

$8 \times 8 =$

$8 \times 10 =$

$9 \times 6 =$

$9 \times 4 =$

$9 \times 5 =$

$9 \times 3 =$

$9 \times 8 =$

$9 \times 7 =$

$9 \times 9 =$

$9 \times 2 =$

**Câu 2. Tính:**

a)  $8 \times 5 + 70$

e)  $8 \times 8 - 32$

i)  $8 \times 5 - 25$

b)  $8 \times 4 + 56$

f)  $8 \times 10 - 29$

k)  $8 \times 8 + 16$

c)  $8 \times 9 - 32$

g)  $8 \times 3 + 17$

l)  $8 \times 4 + 8 \times 2$

d)  $8 \times 7 - 29$

h)  $8 \times 7 - 39$

m)  $8 \times 3 + 8 \times 7$

**Câu 3. Tính giá trị của biểu thức:**

a)  $9 \times 4 + 35$

d)  $9 \times 2 + 17$

g)  $9 \times 6 + 45$

b)  $9 \times 7 + 42$

e)  $9 \times 8 - 21$

h)  $9 \times 3 + 9 \times 10$

c)  $9 \times 6 - 17$

f)  $9 \times 9 - 25$

i)  $9 \times 5 : 3$

**Câu 4. Tìm y biết:**

a)  $y - 37 = 9 \times 8$

b)  $250 - y = 9 \times 10$

**Câu 5.** Một cửa hàng có 10 hộp táo. Mỗi thùng táo gồm 8 quả táo. Cửa hàng đã bán đi 25 quả táo.

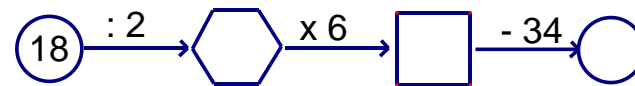
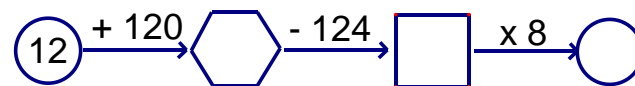
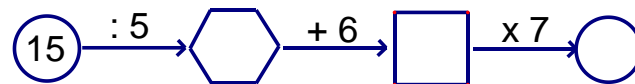
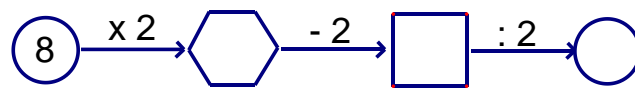
Hỏi cửa hàng còn lại bao nhiêu quả táo?

**Câu 6.** Một cửa hàng ngày đầu tiên bán được 9 hộp kẹo. Ngày thứ hai bán được số hộp kẹo gấp 2 lần số hộp đã bán được ở ngày thứ nhất. Hỏi sau hai ngày cửa hàng đã bán được tất cả bao nhiêu hộp kẹo?

**Câu 7.** Tại một cửa hàng, ngày thứ nhất cửa hàng bán được 8 lít dầu. Ngày thứ hai cửa hàng bán được số dầu gấp 5 lần ngày thứ nhất. Hỏi sau hai ngày cửa hàng đã bán được tất cả bao nhiêu lít dầu?

**Câu 8.** Lan mua 7 hộp bút, mỗi hộp bút gồm 8 chiếc bút. Lan cho Hùng 10 chiếc bút và cho Ngọc 15 chiếc bút. Hỏi Lan còn lại bao nhiêu chiếc bút?

**Câu 9.** Số?



**Câu 10.** Điền dấu >; =; < thích hợp vào chỗ chấm:

$8 \times 6 \dots\dots\dots 8 \times 3$

$32 \dots\dots\dots 8 \times 4$

$7 \times 8 \dots\dots\dots 8 \times 4$

$9 \times 3 \dots\dots\dots 6 \times 7$

$7 \times 3 \dots\dots\dots 8 \times 2$

$9 \times 9 \dots\dots\dots 8 \times 10$

$45 : 5 \dots\dots\dots 9 \times 2 - 9$

$8 \times 7 \dots\dots\dots 9 \times 5 + 2$

$8 \times 3 \dots\dots\dots 45 - 8 \times 5$

**Câu 11.** Cô giáo có 56 quyển vở, cô thưởng cho 3 bạn, mỗi bạn 9 quyển.

a) Cô đã phát thưởng bao nhiêu quyển vở?

b) Cô còn lại bao nhiêu quyển vở?