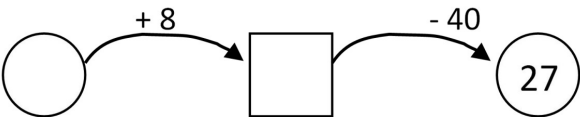
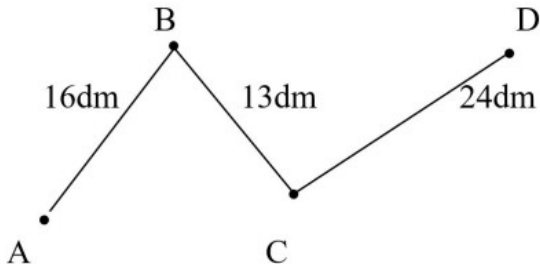




TÀI LIỆU TOÁN NÂNG CAO LỚP 3
KIỂM TRA
Liên hệ đăng kí học: 0832.64.64.64

Họ và tên:Ngày học:

Điểm từng phần		Tổng điểm
Điểm phần 1	Điểm phần 2	

I. Trắc nghiệm: Học sinh điền câu trả lời vào cột đáp án.

Câu	Đề bài	Đáp án
1	Số chẵn lớn nhất có ba chữ số khác nhau là:	
2	Số bị trừ là số nhỏ nhất có ba chữ số, hiệu là 99. Số trừ là:	
3	Số cần điền vào hình tròn là : 	
4	Mai lấy 5 đôi đũa cho cả nhà. Hỏi Mai đã lấy bao nhiêu chiếc đũa?	
5	Kết quả của phép tính: $3 \times 6 + 117$ là:	
6	Một con kiến bò từ A đến D (như hình vẽ, qua B và C). Tính độ dài quãng đường con kiến đã bò. 	
7	Tìm x biết: $x + 212 = 467$	

8	<p>Một cửa hàng có 36 quả dưa hấu, sau khi đem bán thì số dưa hấu còn lại bằng $\frac{1}{6}$ số dưa lúc đầu. Hỏi cửa hàng còn lại bao nhiêu quả dưa hấu?</p>	
9	<p>Đã khoanh vào một phần mấy số quả táo:</p> 	
10	<p>Có một số bông hoa được xếp theo quy luật sau:</p>  <p>HỎI THEO QUY LUẬT ĐÓ THÌ HÀNG THỨ 6 CÓ BAO NHIÊU BÔNG HOA?</p>	

II. Tự luận: Học sinh trình bày chi tiết cách giải những bài toán sau.

Bài 1.

a) Tính:

$$x48 : 8 + 125$$

b) Tìm y:

$$(y + 3) : 6 = 5 \times 2$$

.....

.....

.....

.....

.....

.....

.....

.....

.....

.....

