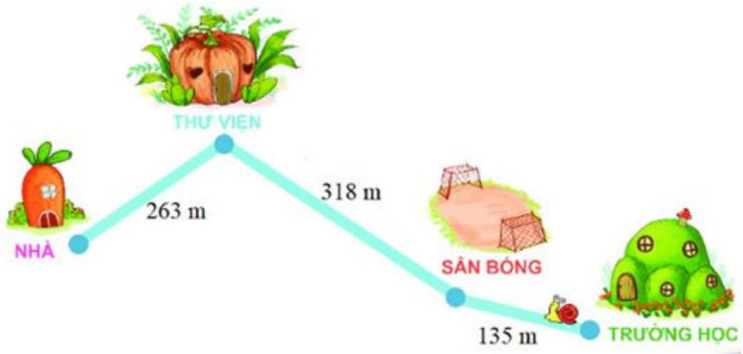

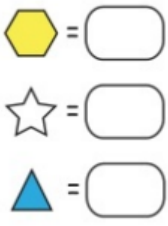


**TÀI LIỆU TOÁN NÂNG CAO LỚP 3**  
**KIỂM TRA**  
Liên hệ đăng kí học: 0832.64.64.64

Họ và tên: .....Ngày học: .....

I. Trắc nghiệm: Học sinh điền câu trả lời vào cột đáp án.

Câu	Đề bài	Đáp án
1	Cho các số: 928, 982, 899, 988. Số lớn nhất là:	
2	Số liền trước của 200 là:	
3	Sau khi tan học, Ốc Sên bò từ trường học về nhà trên đoạn đường như hình dưới đây. Tính độ dài quãng đường Ốc Sên bò từ trường học về nhà: 	
4	Bác Minh đã làm việc được 7 giờ, mỗi giờ bác làm được 7 sản phẩm. Hỏi bác Minh làm được tất cả bao nhiêu sản phẩm?	
5	Kết quả của phép tính $9 + 24 \times 3$ là:	
6	Kết quả của phép tính $34 \times 6 + 34 \times 4$ là:	
7	Tìm $x$ biết: $x : 5 - 12 = 28$	
8	Mẹ có 18 quả cam, mẹ biếu bà $\frac{1}{3}$ số cam đó. Hỏi mẹ còn lại bao nhiêu quả cam?	
9	Có một số con chim đậu trên 2 cành cây (như hình vẽ). Hỏi bao nhiêu con chim cần chuyển từ cành trên xuống cành dưới để hai cành có số con chim bằng nhau?	

		
10	<p>Điền số tương ứng với giá trị của mỗi hình, biết:</p> $\text{Hình lục giác vàng} + \text{Hình tam giác xanh} = 7$ $\text{Hình tam giác xanh} + \text{Hình tam giác xanh} = 10$ $\text{Hình sao trắng} + \text{Hình lục giác vàng} = 3$	

**II. Tự luận:** Học sinh trình bày chi tiết cách giải những bài toán sau.

**Bài 1.**

1) Đặt tính rồi tính:

a)  $98 \times 9$

b)  $576 \times 8$

.....

.....

.....

.....

2) Tìm y biết:

$y : 7 + 26 = 87$

.....

.....

.....

.....

**Bài 2.** Một cửa hàng buổi sáng bán được 48 hộp bánh, buổi chiều bán được gấp 2 lần so với buổi sáng. Hỏi cả ngày cửa hàng bán được bao nhiêu hộp bánh?

.....

.....

.....

.....

.....  
.....  
.....  
.....

**Bài 3.** Lan gấp được 12 con hạc giấy, số hạc giấy của Mai bằng  $\frac{1}{2}$  số hạc giấy của Lan. Hỏi Lan phải chuyển cho Mai bao nhiêu con hạc giấy để số hạc của hai bạn bằng nhau?

.....  
.....  
.....  
.....  
.....  
.....  
.....  
.....  
.....  
.....  
.....  
.....