

TÀI LIỆU TOÁN CƠ BẢN, NÂNG CAO LỚP 8
ĐỀ BÀI TẬP VỀ NHÀ
 Liên hệ đăng kí học: 0832.64.64.64

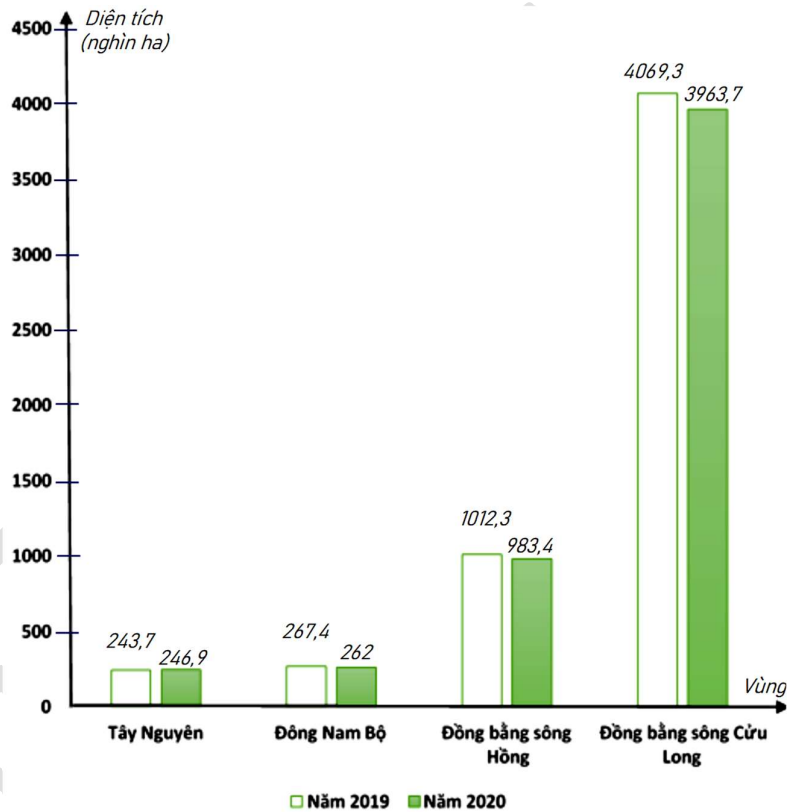
Họ và tên:Ngày học:

Câu 2.

Biểu đồ cột kép ở hình bên biểu diễn diện tích gieo trồng lúa trong các năm 2019; 2020 của các vùng : Tây Nguyên; Đông Nam Bộ; Đồng bằng sông Hồng; Đồng bằng sông Cửu Long .

(Nguồn : Niên giám thống kê 2021).

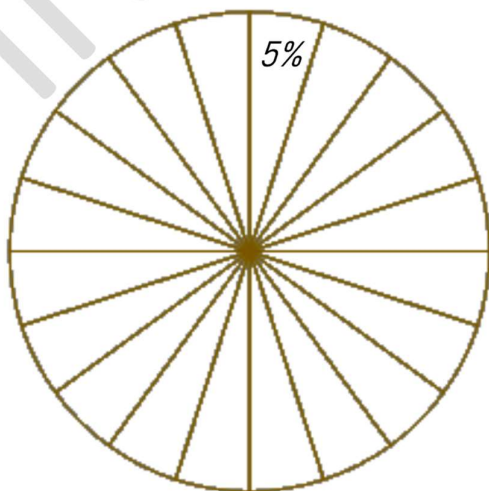
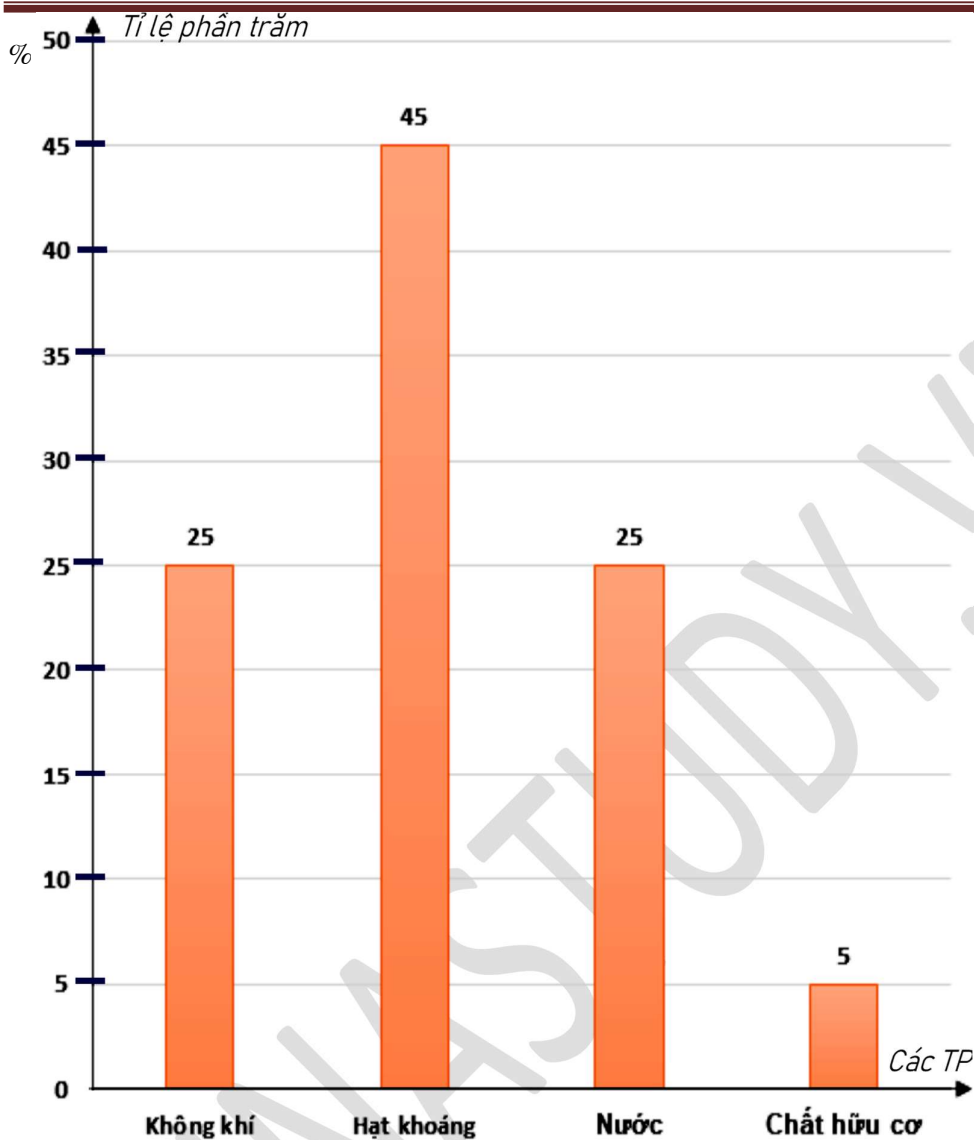
Lập bảng số liệu thống kê diện tích gieo trồng lúa trong các năm 2019; 2020 của các vùng trên theo mẫu sau (đơn vị : nghìn ha) :



Vùng \ Năm	Tây Nguyên	Đông Nam Bộ	Đồng bằng sông Hồng	Đồng bằng sông Cửu Long
2019	?	?	?	?
2020	?	?	?	?

Câu 4.

Biểu đồ cột ở hình bên dưới biểu diễn tỉ lệ phần trăm các thành phần trong đất tốt : Không khí; Nước; Hạt khoáng; Chất hữu cơ. Hãy hoàn thành biểu đồ bên dưới để nhận biểu đồ hình quạt tròn biểu diễn các dữ liệu thống kê trên. Biết rằng hình tròn biểu diễn dữ liệu ở hình bên dưới đã chia sẵn thành các hình quạt, mỗi hình quạt ứng với 5%.



Cô Nguyễn Quỳnh