

TÀI LIỆU TOÁN CƠ BẢN, NÂNG CAO LỚP 3

BẢNG NHÂN 8 - BẢNG NHÂN 9

Liên hệ đăng kí học Toán trực tuyến : 0932393956

Họ và tên:Ngày học:

Bảng nhân 8



$8 \times 1 = 8$	$8 \times 6 = 48$
$8 \times 2 = 16$	$8 \times 7 = 56$
$8 \times 3 = 24$	$8 \times 8 = 64$
$8 \times 4 = 32$	$8 \times 9 = 72$
$8 \times 5 = 40$	$8 \times 10 = 80$

Bảng nhân 9



$9 \times 1 = 9$	$9 \times 6 = 54$
$9 \times 2 = 18$	$9 \times 7 = 63$
$9 \times 3 = 27$	$9 \times 8 = 72$
$9 \times 4 = 36$	$9 \times 9 = 81$
$9 \times 5 = 45$	$9 \times 10 = 90$

Câu 1. Tính nhẩm:

$8 \times 4 =$

$8 \times 6 =$

$8 \times 5 =$

$8 \times 9 =$

$8 \times 3 =$

$8 \times 2 =$

$8 \times 8 =$

$8 \times 10 =$

$9 \times 6 =$

$9 \times 4 =$

$9 \times 5 =$

$9 \times 3 =$

$9 \times 8 =$

$9 \times 7 =$

$9 \times 9 =$

$9 \times 2 =$

Câu 2. Tính:

a) $8 \times 5 + 70$

e) $8 \times 8 - 32$

i) $8 \times 5 - 25$

b) $8 \times 4 + 56$

f) $8 \times 10 - 29$

k) $8 \times 8 + 16$

c) $8 \times 9 - 32$

g) $8 \times 3 + 17$

l) $8 \times 4 + 8 \times 2$

d) $8 \times 7 - 29$

h) $8 \times 7 - 39$

m) $8 \times 3 + 8 \times 7$

Câu 3. Tính giá trị của biểu thức:

a) $9 \times 4 + 35$

d) $9 \times 2 + 17$

g) $9 \times 6 + 45$

b) $9 \times 7 + 42$

e) $9 \times 8 - 21$

h) $9 \times 3 + 9 \times 10$

c) $9 \times 6 - 17$

f) $9 \times 9 - 25$

i) $9 \times 5 : 3$

Câu 4. Tìm y biết:

a) $y - 37 = 9 \times 8$

b) $250 - y = 9 \times 10$

Câu 5. Một cửa hàng có 10 hộp táo. Mỗi thùng táo gồm 8 quả táo. Cửa hàng đã bán đi 25 quả táo.

Hỏi cửa hàng còn lại bao nhiêu quả táo?

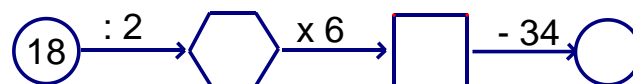
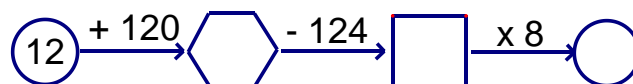
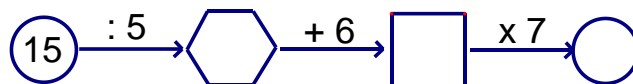
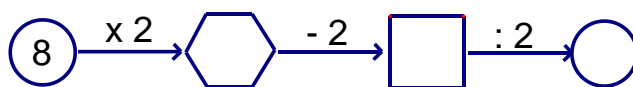
VINASTUDY – TRƯỜNG HỌC TOÁN TRỰC TUYẾN LIÊN CẤP
Chuyên bồi dưỡng Toán từ lớp 3 đến lớp 12 qua hệ thống lớp học trực tuyến

Câu 6. Một cửa hàng ngày đầu tiên bán được 9 hộp kẹo. Ngày thứ hai bán được số hộp kẹo gấp 2 lần số hộp đã bán được ở ngày thứ nhất. Hỏi sau hai ngày cửa hàng đã bán được tất cả bao nhiêu hộp kẹo?

Câu 7. Tại một cửa hàng, ngày thứ nhất cửa hàng bán được 8 lít dầu. Ngày thứ hai cửa hàng bán được số dầu gấp 5 lần ngày thứ nhất. Hỏi sau hai ngày cửa hàng đã bán được tất cả bao nhiêu lít dầu?

Câu 8. Lan mua 7 hộp bút, mỗi hộp bút gồm 8 chiếc bút. Lan cho Hùng 10 chiếc bút và cho Ngọc 15 chiếc bút. Hỏi Lan còn lại bao nhiêu chiếc bút?

Câu 9. Số?



Câu 10. Điền dấu >, =, < thích hợp vào chỗ chấm:

$8 \times 6 \dots\dots\dots 8 \times 3$

$32 \dots\dots\dots 8 \times 4$

$7 \times 8 \dots\dots\dots 8 \times 4$

$9 \times 3 \dots\dots\dots 6 \times 7$

$7 \times 3 \dots\dots\dots 8 \times 2$

$9 \times 9 \dots\dots\dots 8 \times 10$

$45 : 5 \dots\dots\dots 9 \times 2 - 9$

$8 \times 7 \dots\dots\dots 9 \times 5 + 2$

$8 \times 3 \dots\dots\dots 45 - 8 \times 5$

Câu 11. Cô giáo có 56 quyển vở, cô thưởng cho 3 bạn, mỗi bạn 9 quyển.

a) Cô đã phát thưởng bao nhiêu quyển vở?

b) Cô còn lại bao nhiêu quyển vở?

Giáo viên: Nguyễn Thành Long